





## ΘΕΜΑ 2

### 2.1

Αντιστοιχίστε τα ονόματα των υποδοχών/καλωδίων με τις εικόνες που τους αντιστοιχούν.

Υποδοχές/καλώδια: DVI, HDD, RJ45, SATA, USB, HDMI, T-SC-Duplex

1		3	
2		4	

**Μονάδες 8**

### 2.2

Αντιστοιχίστε τους παρακάτω όρους ασφάλειας πληροφοριακών συστημάτων με τη επεξήγησή τους. Κάποιες από τις επεξηγήσεις περισσεύουν.

A	Αξία (Value)	1	Προσπάθεια για μη εξουσιοδοτημένη πρόσβαση.
B	Ζημία (Harm)	2	Μία αδυναμία που ενδέχεται να την εκμεταλλευτούν.
Γ	Απειλή (Threat)	3	Άδεια που παρέχεται για κάποιο σκοπό.
Δ	Εξουσιοδότηση (Authorization)	4	Ένας πόρος που έχει αξία για τον οργανισμό και αξίζει να προστατευθεί.
E	Επίθεση (Attack)	5	Σπουδαιότητα εκφραζόμενη σε χρηματικούς ή άλλους όρους.
		6	Ο περιορισμός της αξίας ενός αγαθού.
		7	Μία πιθανή αιτία που μπορεί να προκαλέσει ζημία.

**Μονάδες 5**

### 2.3

**A.** Με ποιες από τις παρακάτω υποδοχές μπορεί να συνδεθεί ένας εσωτερικός σκληρός δίσκος με τη μητρική πλακέτα;

Υποδοχές: USB, PCI, AGP, ISA, PCI-express, SATA, IDE

**Μονάδες 6**

**Β.** Υπάρχει διαφορά στη διασύνδεση με τη μητρική πλακέτα των εσωτερικών δίσκων τύπου SSD με τους HDD; Δικαιολογήστε την απάντησή σας.

**Μονάδες 6**