




ΘΕΜΑ 2

2.1

Α. Αντιστοιχίστε την στήλη Α με την στήλη Β του πίνακα με τους υποδοχείς για κάρτες γραφικών.

ΣΤΗΛΗ Α	ΣΤΗΛΗ Β
A1.PCI	 B1
A2.AGP	 B2
A3.PCI-E	 B3

2.2

A. Ένα κτίριο A διασυνδέεται ασύρματα με ένα κτίριο B που βρίσκεται σε απόσταση 50 μέτρων. Σε ποια γεωγραφική κατανομή κατατάσσετε το δίκτυο αυτό;

Μονάδες 5

B. Η διασύνδεση μεταξύ δύο κτιρίων γίνεται με οπτική ίνα, όμως ο εξοπλισμός εντός του κτιρίου δεν διαθέτει, οπτική κάρτα δικτύου παρά μόνο καλώδιο χαλκού, τι λύση προτείνετε;

Μονάδες 6

2.3

Πώς εξασφαλίζετε η προτεραιότητα σε ένα δίκτυο τοπολογίας δακτυλίου IEEE 802.5 .

Μονάδες 8